



## Odcinki w ostrosłupach, kl. 8

.....  
imię i nazwisko

.....  
lp. w dzienniku

.....  
klasa

.....  
data

1. Uzupełnij nazwy odcinków oznaczonych literami:

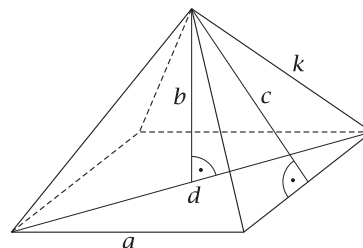
$b$  — .....

$k$  — .....

$c$  — .....

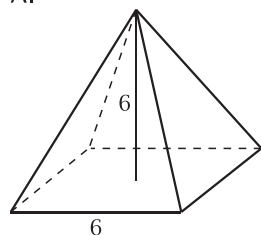
$a$  — .....

$d$  — .....

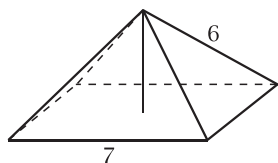


2. Na rysunku przedstawiono ostrosłupy prawidłowe czworokątne. Który z nich ma największą objętość?

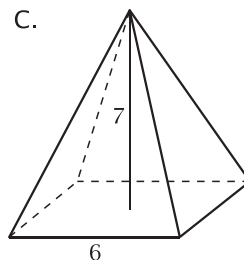
A.



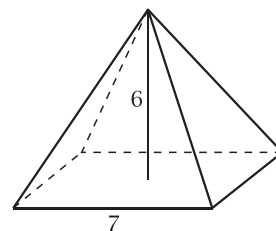
B.



C.



D.



3. Wysokość narysowanego ostrosłupa oznaczono literą:

A.  $d$

B.  $e$

C.  $f$

D.  $g$

